

Сморгун М. В.




# ВЕСЁЛАЯ МАТЕМАТИКА С БУСЕЙ

2 класс

Ученика (цы) \_\_\_\_\_




Точно, 2024 год






## Занятие 1

Задание 1. Закрой правую картинку ладошкой и внимательно рассмотри левый, старайся запомнить каждую деталь.



Задание 2. Пройди лабиринт.




## Занятие 14

Задание 1. Найди все отличия и напиши сколько их .



Задание 2. Пройди лабиринт.

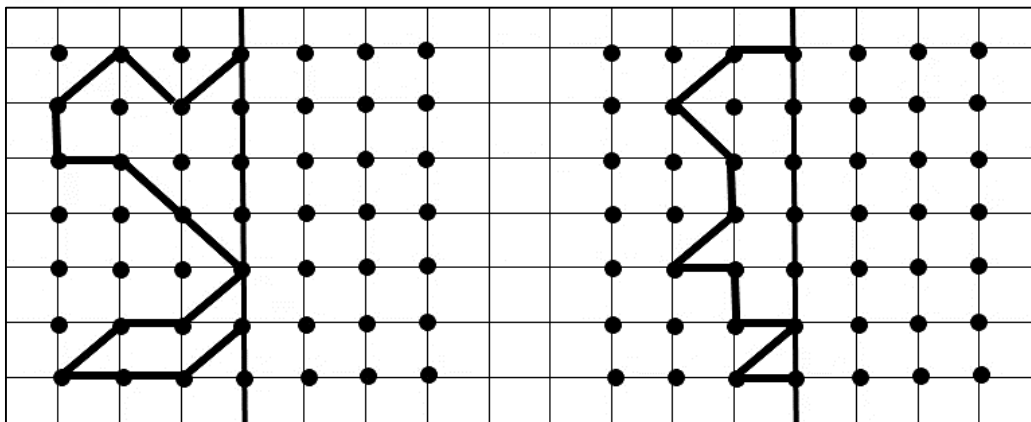






## Занятие 13



Задание 1. Повтори узор по точкам.



Задание 2. Распутай и собери слова.



Задание 3. Расставь знаки «+» и «-» так, чтобы в результате получилось число, указанное под «мостиком».



## Занятие 2

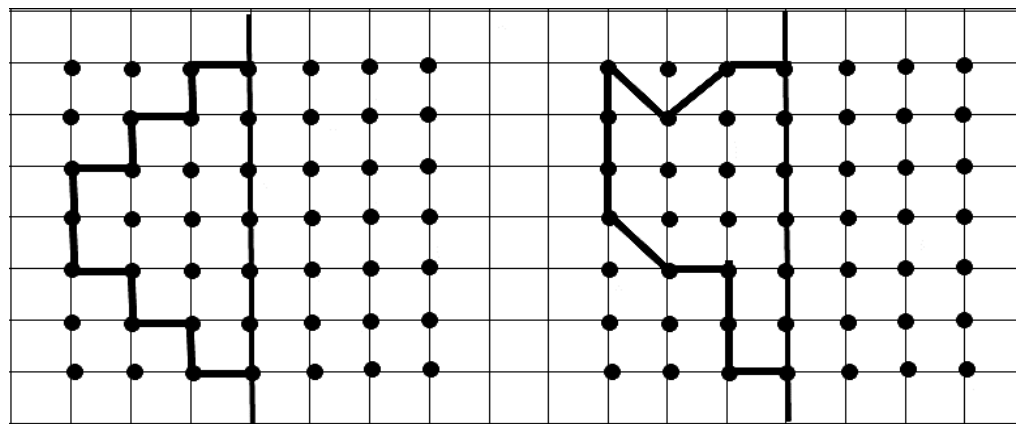
Задание 1. Реши задачи.

Божья коровка Буся собирала букет на день рождения своего друга. Она сорвала 8 ромашек и 4 колокольчика. Сколько цветов в букете Буси?

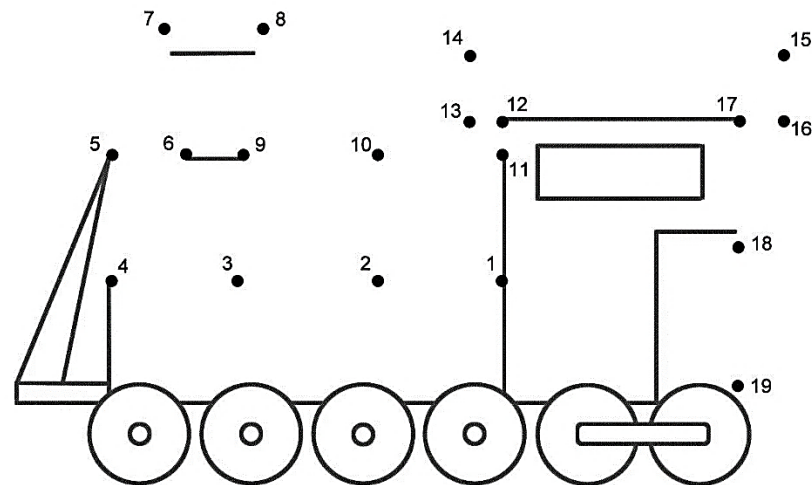
Решение:

Ответ:

Задание 2. Повтори по точкам узор.




Задание 3. Соедини по точкам. Раскрась.




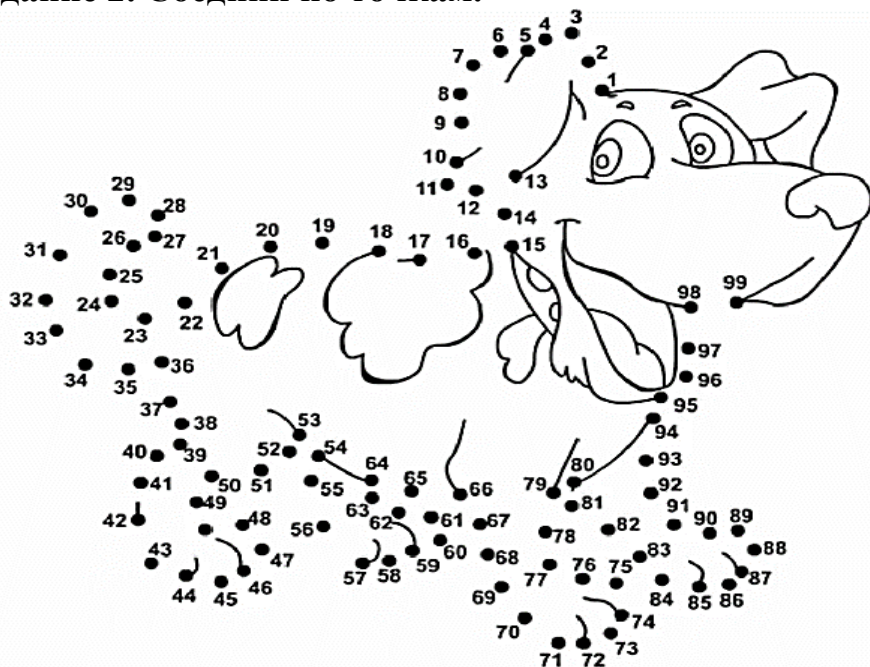


## Занятие 3

Задание 1. Вставь в пустые фигуры знаки по образцу.



Задание 2. Соедини по точкам.



## Занятие 12

Задание 1. Реши примеры и отгадай слово, опираясь на таблицу.

1	2	3	4	5	6	7	8	9	10	11
Ч	И	Й	Б	А	О	Ь	С	К	М	Н

$15-5=$

$10-8=$

$4+4=$

$11-2=$

$14-9=$

$6-2=$

$11-6=$

$8+3=$

$5+4=$

$9-4=$

Задание 2. Найди отличия.








# Занятие 11


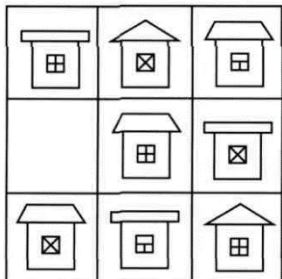
Задание 1. Сосчитай и раскрась.



- 11** коричневый
- 12** серый
- 13** жёлтый
- 14** синий
- 15** зелёный
- 16** красный



Задание 2. Как ты, думаешь, какую фигуру нужно нарисовать в пустой клетке.




# Занятие 4

Задание 1. Найди и обведи все «2», зачеркни «4».

2	8	3	1	2	7	4	5	1	7	4	9	2	0	5	7	1
7	3	4	9	4	5	6	0	2	1	5	6	4	1	2	6	4
4	2	9	1	4	7	7	6	1	2	6	5	1	7	3	2	7
1	6	5	9	5	2	6	8	7	4	0	1	5	2	3	7	0
6	3	3	1	2	5	2	0	9	7	4	2	0	1	7	5	6
7	9	0	2	3	8	0	4	4	7	2	5	3	4	4	3	0
3	1	9	7	2	0	6	3	1	4	1	4	2	5	6	5	6
2	2	0	5	3	9	5	7	9	3	4	1	2	8	9	1	0

Задание 2. Пройди лабиринт.





## Занятие 5

Задание 1. Реши сначала примеры в строчках, потом в столбиках. Теперь реши примеры, полученные из ответов. Результаты должны совпасть.


6	+		=	9
+		+		+
	+	1	=	3
=		=		=
8	+		=	12

13	-	4	=	
-		-		-
9	-	2	=	
=		=		=
	-		=	

Задание 2. Пройди по числовой строчке.

$$6 + 6 \rightarrow \square \square \quad - 4 \rightarrow \square \quad + 5 \rightarrow \square \square \quad - 9 \rightarrow \square$$

Задание 3. Помоги определить, что поймал Коля, что поймал Толя.




## Занятие 10

Задание 1. Реши сначала примеры в строчках, потом в столбиках. Теперь реши примеры, полученные из ответов. Результаты должны совпасть.

12	-	3	=	
-		+		-
7	+	2	=	
=		=		=
	-		=	

9	+	5	=	
+		-		+
8	-	4	=	
=		=		=
	+		=	

Задание 2. Найди и раскрась все цифры.






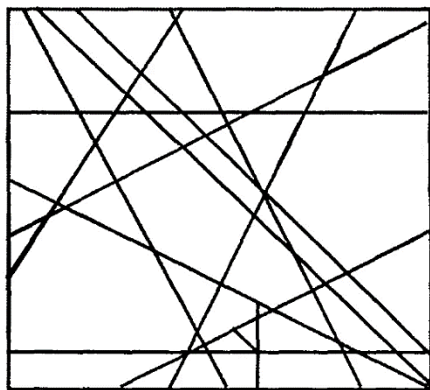



## Занятие 9

Задание 1. Найди и сосчитай. Результат запиши в табличку.

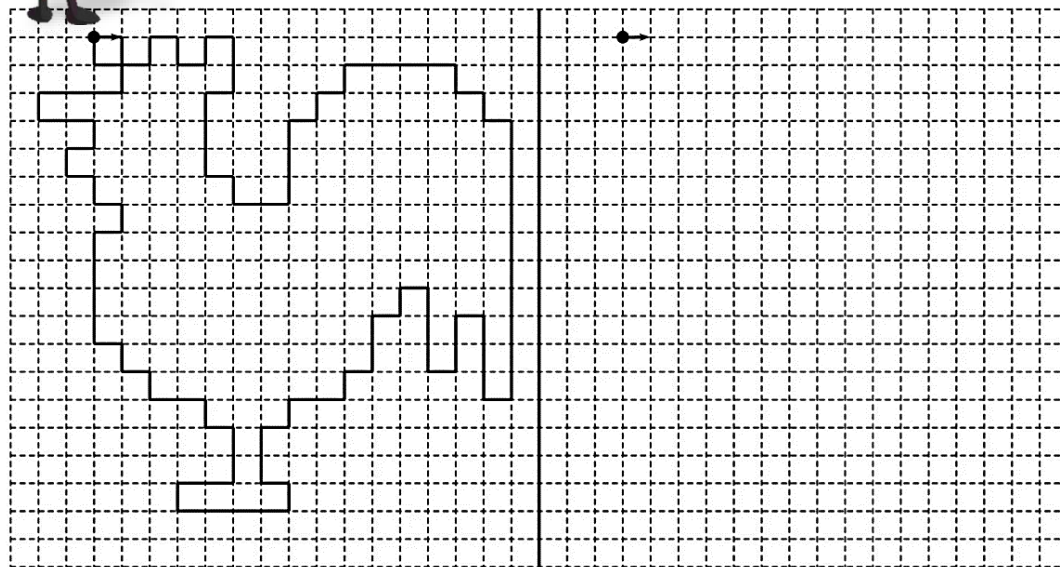



Задание 2. Найди на второй картинке ворону и закрась




## Занятие 6

Задание 1. Повтори рисунок по клеточкам и раскрась его.



Задание 2. Пройди лабиринт и раскрась его.






## Занятие 7

Задание 1. Реши примеры, и прочитаешь название стран.

1	2	3	4	5	6	7	8	9
Ю	Э	Ы	О	У	Е	Я	И	А
10	11	12	13	14	15	16	17	18
Б	В	Г	Д	К	Р	М	С	Н


$6+9=$	<input type="text"/>	<input type="text"/>	<input type="text"/>	$11-6=$	<input type="text"/>	<input type="text"/>	<input type="text"/>	$16-7=$	<input type="text"/>	<input type="text"/>	<input type="text"/>
$12-8=$	<input type="text"/>	<input type="text"/>	<input type="text"/>	$5+9=$	<input type="text"/>	<input type="text"/>	<input type="text"/>	$8+8=$	<input type="text"/>	<input type="text"/>	<input type="text"/>
$11+6=$	<input type="text"/>	<input type="text"/>	<input type="text"/>	$11+4=$	<input type="text"/>	<input type="text"/>	<input type="text"/>	$12-6=$	<input type="text"/>	<input type="text"/>	<input type="text"/>
$9+8=$	<input type="text"/>	<input type="text"/>	<input type="text"/>	$15-6=$	<input type="text"/>	<input type="text"/>	<input type="text"/>	$7+8=$	<input type="text"/>	<input type="text"/>	<input type="text"/>
$17-9=$	<input type="text"/>	<input type="text"/>	<input type="text"/>	$13-5=$	<input type="text"/>	<input type="text"/>	<input type="text"/>	$15-7=$	<input type="text"/>	<input type="text"/>	<input type="text"/>
$16-9=$	<input type="text"/>	<input type="text"/>	<input type="text"/>	$9+9=$	<input type="text"/>	<input type="text"/>	<input type="text"/>	$7+7=$	<input type="text"/>	<input type="text"/>	<input type="text"/>
				$18-9=$	<input type="text"/>	<input type="text"/>	<input type="text"/>	$15-6=$	<input type="text"/>	<input type="text"/>	<input type="text"/>

Задание 2. Буся играет с животными в прятки. Помоги найти всех на картинке и раскрась их.



## Занятие 8

Задание 1. Реши примеры и раскрась картинку.



- 9 красный
- 10 оранжевый
- 11 жёлтый
- 12 коричневый
- 13 синий
- 14 зеленый

Задание 2. Реши задачу.

Буся считала цветы на лугу. Клевера она насчитала 8 цветов, а колокольчиков на 7 больше. Сколько колокольчиков насчитала Буся?

Решение:

Ответ: