

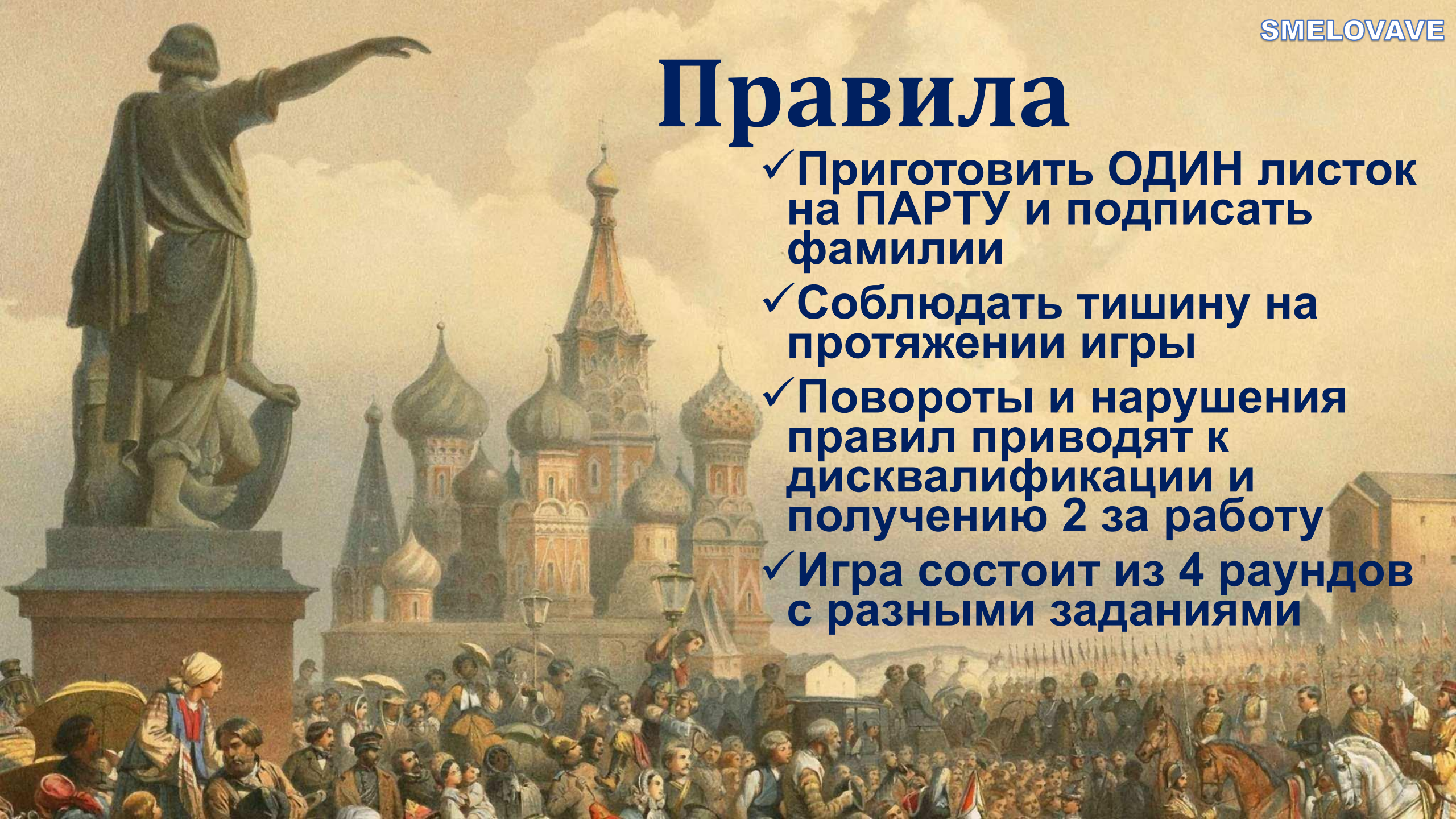


**РУССКИЕ ЗЕМЛИ В  
СЕРЕДИНЕ XIII-XIV ВВ.**



# Правила

- ✓ Приготовить **ОДИН** листок на ПАРТУ и подписать фамилии
- ✓ Соблюдать тишину на протяжении игры
- ✓ Повороты и нарушения правил приводят к дисквалификации и получению 2 за работу
- ✓ Игра состоит из 4 раундов с разными заданиями





A full-page image featuring Iron Man (Robert Downey Jr.) in a dark pinstripe suit, white shirt, and patterned tie. He is wearing sunglasses and has his arms outstretched horizontally. The background is a vast desert landscape with rocky terrain and a range of snow-capped mountains under a clear blue sky. A thought bubble originates from the right side of his head, containing the Russian text 'ГОТОВЫ?'.

**ГОТОВЫ ?**



# РАУНД 1




- 10 вопросов с вариантами ответа
- На вопрос дается по 30 секунд





# ВОПРОС

**В каком году состоялась битва русских дружин с монголо-татарами на реке Калке:**

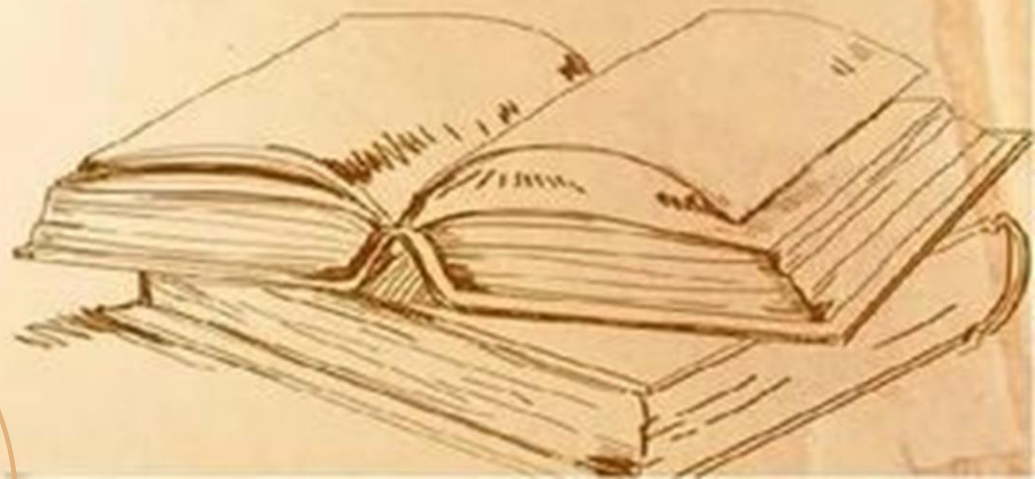
 **1** 1238 г.

 **3** 1240г

 **2** 1223 г.

 **4** 1227 г

**00:30**





# ВОПРОС 2

**Во главе монгольского войска, двинувшегося на Русь в 1237 г., стоял:**

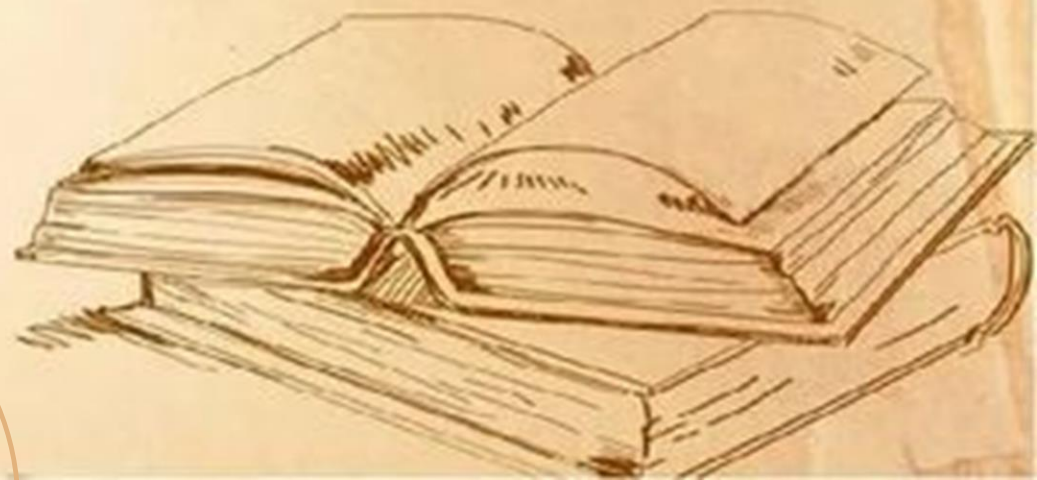
 1 Чингисхан

 3 Мамай

 2 Батый

 4 Тохтамыш


**00:30**







# ВОПРОС 3

**При ком произошло усиление Литовского государства в 14 веке**

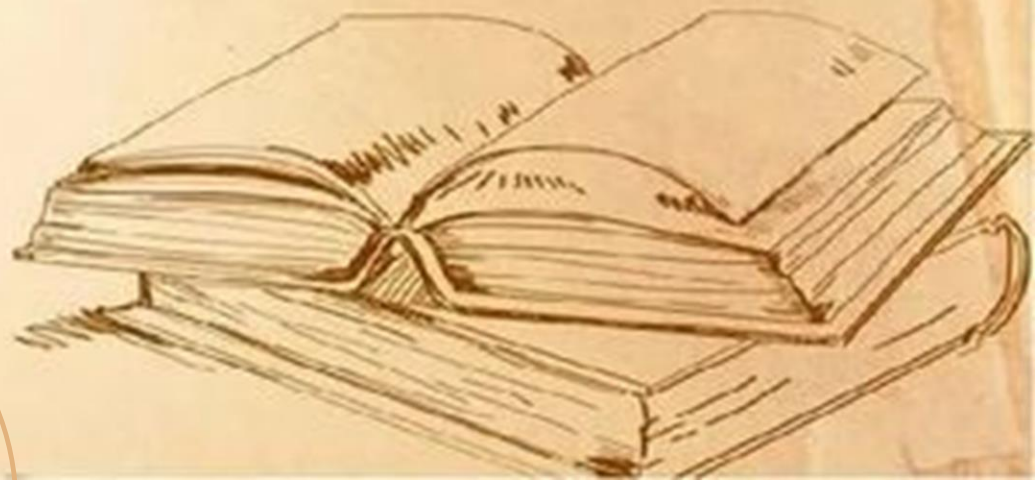
 1 Миндовге

 3 Гедимине

 2 Ягайле

 4 Ольгореде

**00:30**





# ВОПРОС 4

Кто стоял во главе Золотой Орды?

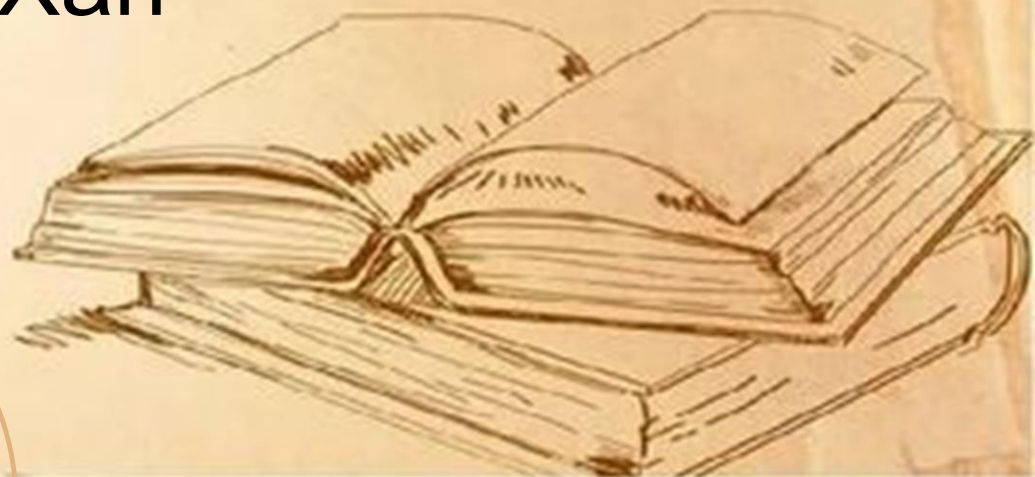
 1 Князь

 3 Вождь

 2 Каганат

 4 Хан

00:30






# ВОПРОС 5

Какой город был столицей Золотой Орды?

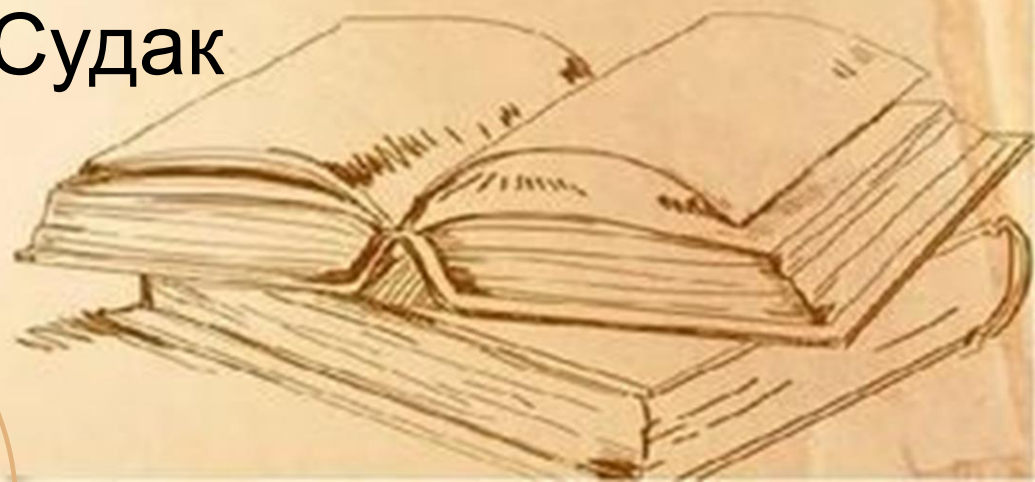
 1 Киев

 3 Сарай

 2 Булгар

 4 Судак

00:30






# ВОПРОС 6

**Соперничество двух центров Северо-Восточной Руси Москвы и Твери – завершилось в конце XV века**




присоединением  
Твери к Москве



присоединением Твери к  
Великому княжеству  
Литовскому



сохранением  
Тверского княжества



заключением Тверью  
союза с польским  
королём





00:30





# ВОПРОС

## Победа на Куликовском поле

-  укрепила ведущую роль Москвы в качестве центра образования единого Русского государства
-  Укрепила положение Твери в борьбе за великое княжение
-  Положила конец господству Золотой Орды
-  Стала причиной уменьшения размера выплачиваемой дани





00:30





## ВОПРОС 8

**Каков был результат битв на реке Неве и Чудском озере?**

-  1 Русь захватила все побережье Балтийского моря
-  2 было положено начало объединению русских земель
-  3 было остановлено наступление монголо-татар
-  4 было предотвращено распространение католицизма в русских землях


**00:30**







# ВОПРОС 9

**Превращение Москвы в центр объединения русских земель связано с деятельностью**

 1 Владимира Мономаха и Мстислава Удалого

 2 Юрия Долгорукого и Андрея Боголюбского

 3 Ивана Калиты и Дмитрия Донского

 4 Ярослава Всеволодовича и Александра Невского


**00:30**







# ВОПРОС 10

**Чему способствовал переезд главы русской православной церкви из Владимира в Москву?**

 объединению русских земель

 обострению религиозных противоречий

 падению авторитета Московского княжества

 возвышению Москвы

**00:30**





# РАУНД 2



- **ТРИ верных ответа**
- **На вопрос дается 90 секунд**



## ВОПРОС



## Что из перечисленного относится к политике Ивана Калиты?


- 1 перенёс столицу Владимира-Суздальского княжества во Владимир
- 2 создал Русскую Правду
- 3 заложил основы политического и экономического могущества Москвы
- 4 назначил главой русской церкви митрополита Илариона
- 5 подавил восстание в Твери
- 6 получил право сбора дани и доставки её в Орду

До конца вопроса  
осталось:


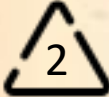
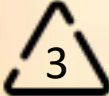


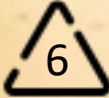
01:30



## ВОПРОС



**Что из перечисленного относится к деятельности Дмитрия Донского?**

-  одержал победу над монголами в Куликовской битве
-  создал Русскую Правду
-  построил храм Покрова на Нерли
-  продолжил укрепление Москвы, построив новый каменный Кремль
-  подавил восстание в Твери
-  поддерживал православные храмы, при его поддержке были открыты монастыри в Московском княжестве

До конца вопроса  
осталось:

**01:30**





# РАУНД





- **Вопросы на сопоставление**  
**На каждый вопрос дается 90 секунд**





# Внимательно рассмотрите изображения и установите соответствия



Церковь Фёдора  
Стратилата на  
Ручью в  
Новгороде



Успенский собор в  
Коломне



Стены Изборской  
крепости

01:30



## Установите соответствие между терминами и их значением

1 Родоплеменное объединение с определённой территорией, подвластное хану или вождю у народов Центральной и Средней Азии, Сибири

2 Грамота ханов Золотой Орды подвластным землевладельцам

3 Объединения вооружённых рыцарей-монахов, создававшиеся для борьбы с иноверцами.

4 Дань, выплачиваемая Золотой Орде русскими землями в 13-15 вв..

5 Представитель Орды, специальный чиновник для сбора дани в русских

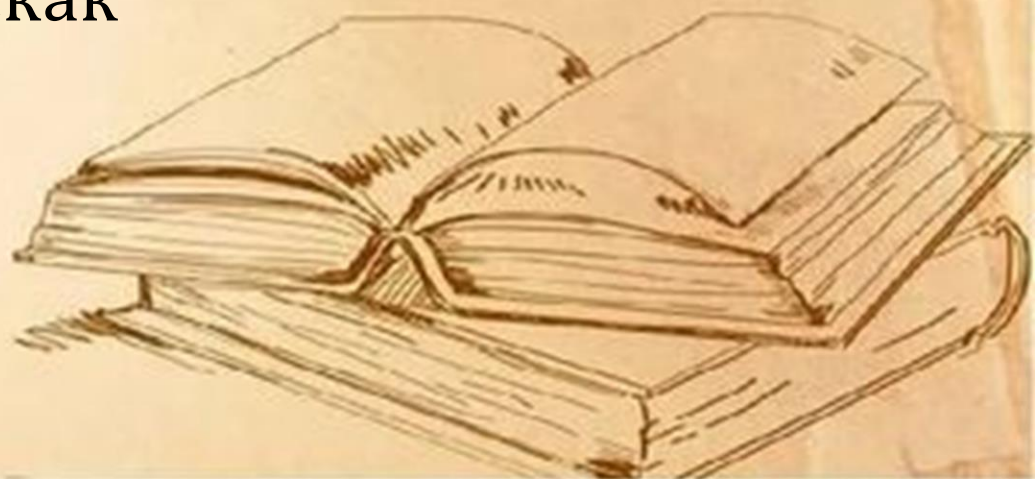
А Ордынский выход

Б Улус

В Духовно-рыцарские ордены

Г Баскак

01:30





## Установите соответствие между терминами и их значением

1 Избрание Темучина ханом

2 Антиордынское  
восстание в Твери

3 Завоевание Руси ханом  
Батыем.

4 Невская битва

5 Первое получение  
Москвой ярлыка на  
великое княжение

А 1206 г.

Б 1317 г.

В 1237-1241 гг.

Г 15 июля 1240 г

Д 1327 г.

01:30





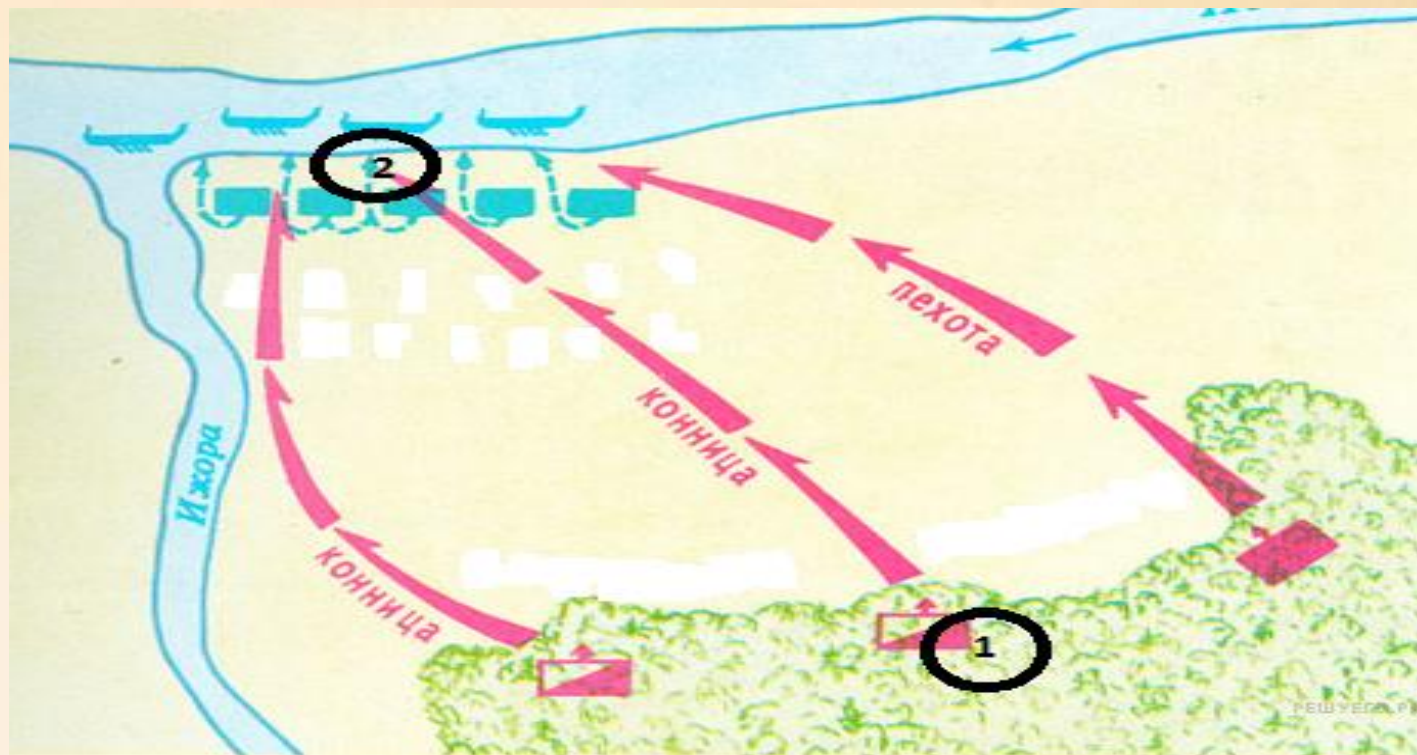
# РАУНД

- Сложные вопросы, напрягаем МОЗГИ
- На каждый вопрос дается 2,5 минуты





Рассмотрите схему и выполните задания.



- а. Напишите название битвы, представленной на схеме.
- б. Напишите имя полководца, который командовал войском, отмеченном на схеме цифрой «1».
- в. Напишите чьи войска, отмечены на схеме цифрой «2».

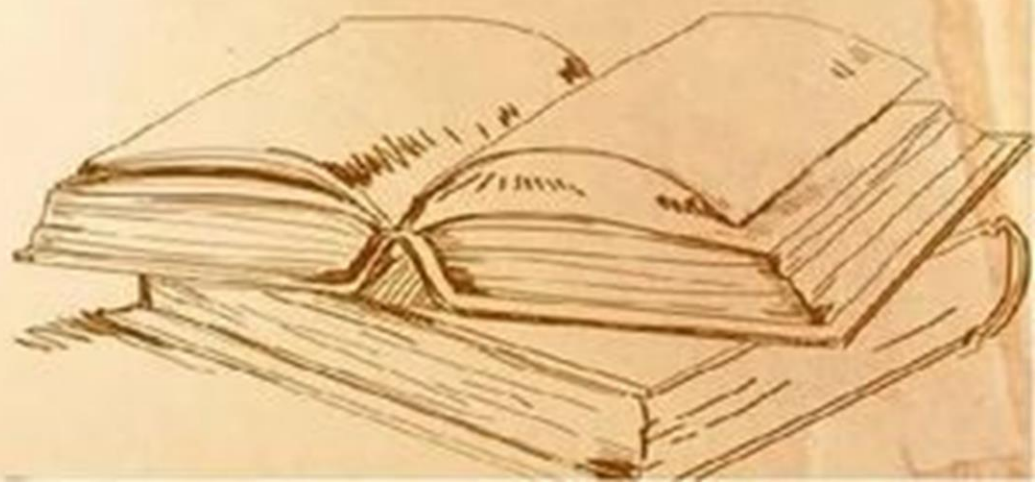
02:00





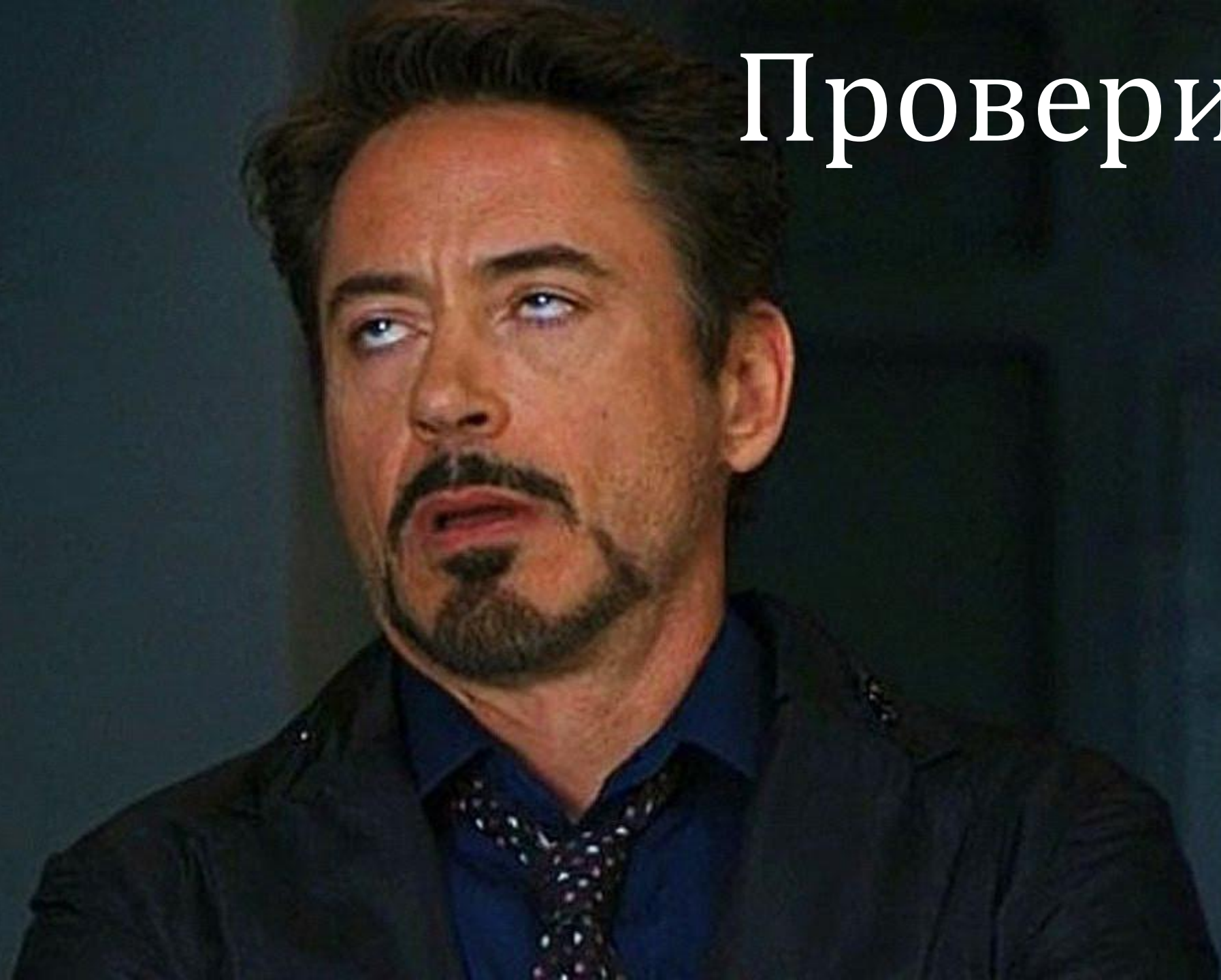
# Как Ордынское господство повлияло на Древнерусское государство?

02:00






# Проверим





# РАУНД



**1. В каком году состоялась битва русских дружин с монголо-татарами на реке Калке:**

- 1) 1238 г.; 2) 1223 г.; 3) 1240г.; 4) 1227 г.

**2. Во главе монгольского войска, двинувшегося на Русь в 1237 г., стоял:**

- 1) Чингисхан; 2) Батый; 3) Мамай; 4) Тохтамыш.

**3. Усиление Литовского государства в начале XIV в. произошло при**

- 1) Миндовге 2) Ягайле 3) Гедимине 4) Ольгерде

**4. Кто стоял во главе Золотой Орды?**

- 1) князь; 2) каган; 3) вождь; 4) хан.

**5. Какой город был столицей Золотой Орды?**

- 1) Киев; 2) Булгар; 3) Сарай; 4) Судак.

**6. Соперничество двух центров Северо-Восточной Руси Москвы и Твери – завершилось в конце XV века**

- 1) присоединением Твери к Москве;  
2) сохранением Тверского княжества  
3) присоединением Твери к Великому княжеству Литовскому  
4) заключением Тверью союза с польским королём.

**7. Победа на Куликовском поле**

- 1) Укрепила ведущую роль Москвы в качестве центра образования единого Русского государства;  
2) Укрепила положение Твери в борьбе за великое княжение;  
3) Положила конец господству Золотой Орды;  
4) Стала причиной уменьшения размера выплачиваемой дани.

**8. Каков был результат битв на реке Неве и Чудском озере?**

- 1) Русь захватила все побережье Балтийского моря;  
2) было положено начало объединению русских земель;  
3) было остановлено наступление монголо-татар;  
4) было предотвращено распространение католицизма в русских землях.

**9. Превращение Москвы в центр объединения русских земель связано с деятельностью**

- 1) Владимира Мономаха и Мстислава Удалого;  
2) Юрия Долгорукого и Андрея Боголюбского;  
3) Ивана Калиты и Дмитрия Донского;  
4) Ярослава Всеволодовича и Александра Невского

**10. Чему способствовал переезд главы русской православной церкви из Владимира в Москву?**







- 1) объединению русских земель;  
2) обострению религиозных противоречий;  
3) падению авторитета Московского княжества;  
4) возвышению Москвы.



# РАУНД 2

## ВОПРОС 1 **356**

**Что из перечисленного относится к политике  
Ивана Калиты?**

-  1 перенёс столицу Владимира-Суздальского княжества во Владимир
-  2 создал Русскую Правду
-  3 заложил основы политического и экономического могущества Москвы
-  4 назначил главой русской церкви митрополита Илариона
-  5 подавил восстание в Твери
-  6 получил право сбора дани и доставки её в Орду

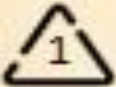




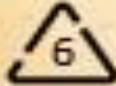




# РАУНД 2

## ВОПРОС 146


**Что из перечисленного относится к деятельности Дмитрия Донского?**

-  1 одержал победу над монголами в Куликовской битве
-  2 создал Русскую Правду
-  3 построил храм Покрова на Нерли
-  4 продолжил укрепление Москвы, построив новый каменный Кремль
-  5 подавил восстание в Твери
-  6 поддерживал православные храмы, при его поддержке были открыты монастыри в Московском княжестве





# Внимательно рассмотрите изображения и установите соответствия



А



Б



В

1

Церковь Фёдора  
Стратилата на  
Ручью в  
Новгороде

2

Успенский собор в  
Коломне

3

Стены Изборской  
крепости



## Установите соответствие между терминами и их значением

1 Родоплеменное объединение с определённой территорией, подвластное хану или вождю у народов Центральной и Средней Азии, Сибири

2 Грамота ханов Золотой Орды подвластным землевладельцам

3 Объединения вооружённых рыцарей-монахов, создававшиеся для борьбы с иноверцами.

4 Дань, выплачиваемая Золотой Орде русскими землями в 13-15 вв..

5 Представитель Орды, специальный чиновник для сбора дани в русских

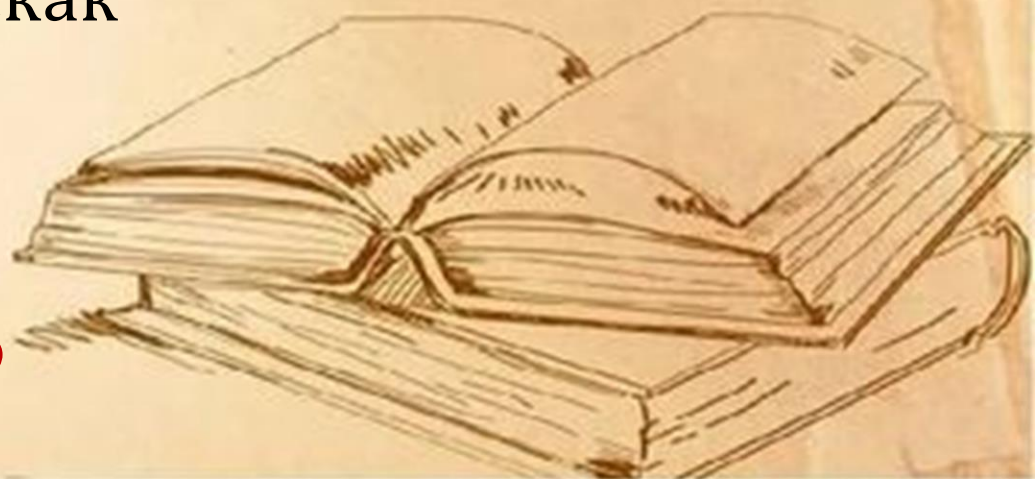
А Ордынский выход

Б Улус

В Духовно-рыцарские ордены

Г Баскак

**А-4, Б-1, В-3, Г-5**





## Установите соответствие между терминами и их значением

1 Избрание Темучина ханом

2 Антиордынское  
восстание в Твери

3 Завоевание Руси ханом  
Батыем.

4 Невская битва

5 Первое получение  
Москвой ярлыка на  
великое княжение

А 1206 г.

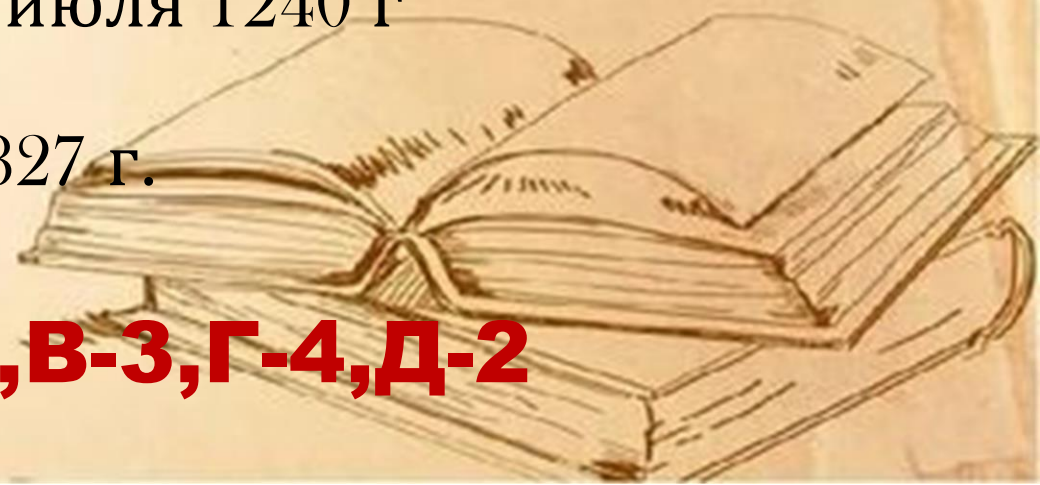
Б 1317 г.

В 1237-1241 гг.

Г 15 июля 1240 г

Д 1327 г.

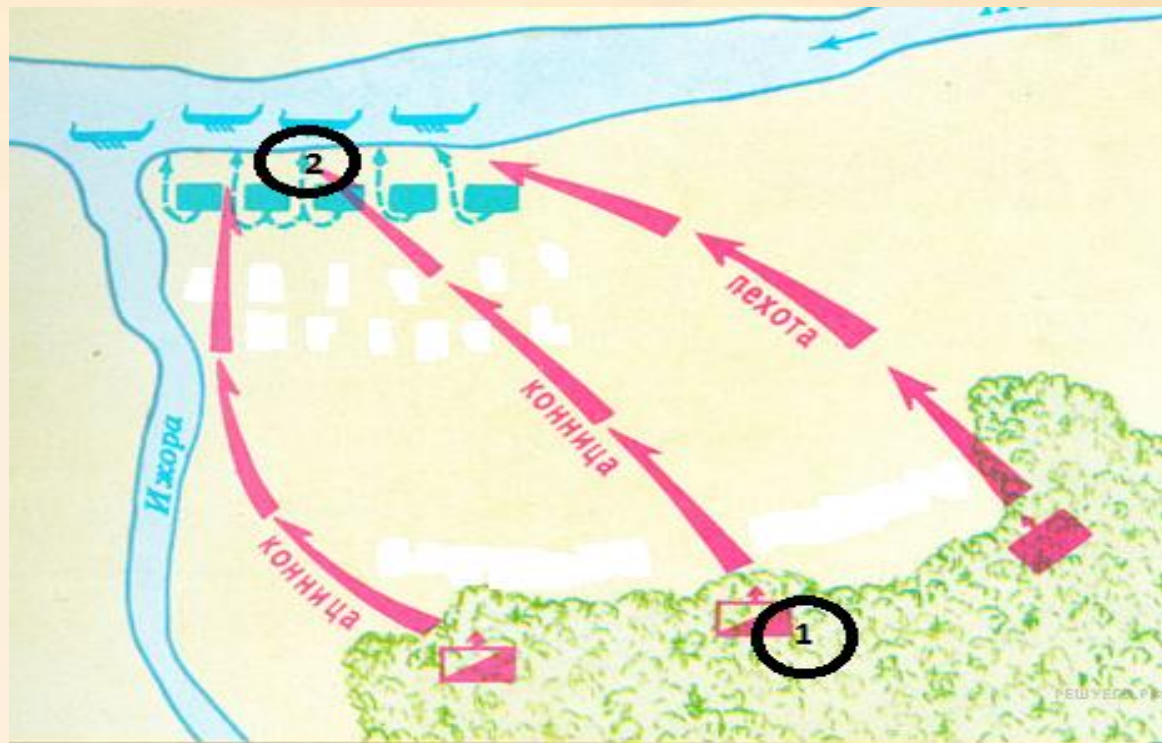
**А-1,Б-5,В-3,Г-4,Д-2**



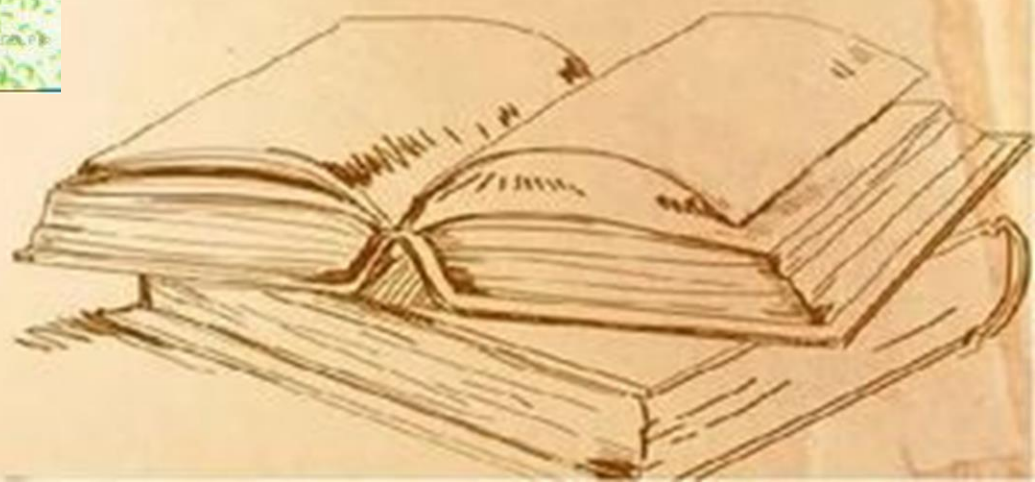


# РАУНД

Рассмотрите схему и выполните задания.



- а. Невская битва.
- б. Александр Невский.
- в. Шведские войска.

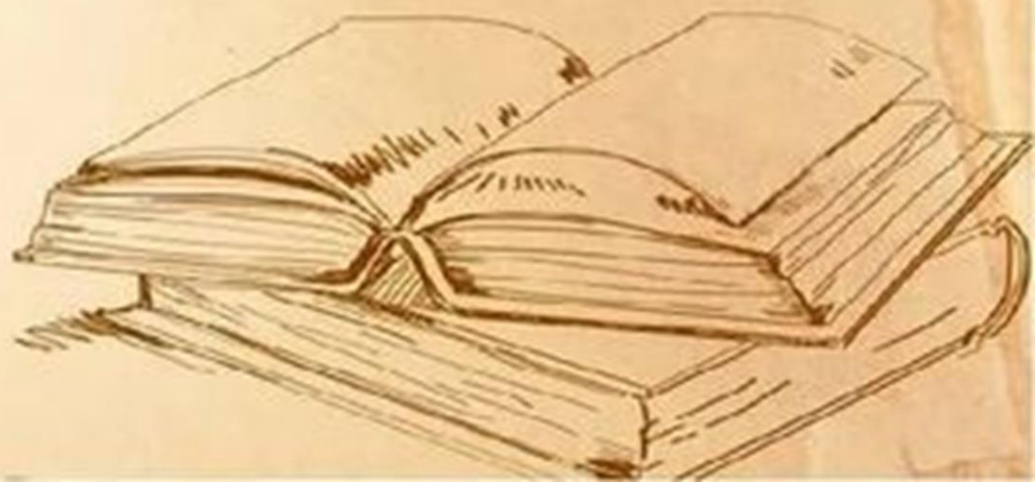




# РАУНД

**Установление власти монгольских ханов, сохранявшейся на протяжении почти двух с половиной веков, имело для истории нашей страны тяжелейшие последствия.**

**Замедлилось социально-экономическое развитие страны (прежде всего городов как центров ремесла и торговли), ослабли связи с Западной Европой, что усилило восточные черты в развитой цивилизации**







**Вы  
справились!!  
Ура!**