

Учимся решать простые задачи
(с разным уровнем подсказок для
обучающихся с ОВЗ)

Волосовская начальная общеобразовательная школа
Ленинградской области

Составитель: учитель начальных классов
Куринская Е.Н.

Учимся решать задачи

НА НАХОЖДЕНИЕ
СУММЫ

I - } ? (+)
II -

НА НАХОЖДЕНИЕ
НЕИЗВЕСТНОГО СЛАГАЕМОГО

I - } (-)
II - ?

НА НАХОЖДЕНИЕ
ОСТАТКА

Было -
Убрали - (-)
Осталось - ?

НА НАХОЖДЕНИЕ
СУММЫ

Было -
Добавили - (+)
Стало - ?

НА УВЕЛИЧЕНИЕ ЧИСЛА
НА НЕСКОЛЬКО ЕДИНИЦ

I -
II - ?, на > (+)

НА УМЕНЬШЕНИЕ ЧИСЛА
НА НЕСКОЛЬКО ЕДИНИЦ

I -
II - ?, на < (-)

НА РАЗНОСТНОЕ
СРАВНЕНИЕ

I -
II - на ? >, < (-)


ЗАДАЧИ В
КОСВЕННОЙ ФОРМЕ

I - , что на < (+)
II - ?

Малыш съел 3 плюшки, а Карлсон – 9.
Сколько всего плюшек они съели?

<input type="text"/>	-	<input type="text"/>	}	<input type="text"/>
<input type="text"/>	-	<input type="text"/>		

<input type="text"/>	<input type="text"/>	<input type="text"/>	=	<input type="text"/>	(<input type="text"/>)
----------------------	----------------------	----------------------	---	----------------------	---	----------------------	---




Ответ:

Малыш съел 3 плюшки, а Карлсон – 9.
Сколько всего плюшек они съели?

<input type="text"/>	-	<input type="text"/>	<input type="text"/>
<input type="text"/>	-	<input type="text"/>	

<input type="text"/>	<input type="text"/>	<input type="text"/>	=	<input type="text"/>	(<input type="text"/>)
----------------------	----------------------	----------------------	---	----------------------	---	----------------------	---



Ответ:

Малыш съел 3 плюшки, а Карлсон – 9.
Сколько всего плюшек они съели?

<input type="text"/>	-	<input type="text"/>	<input type="text"/>
<input type="text"/>	-	<input type="text"/>	

<input type="text"/>	<input type="text"/>	<input type="text"/>	=	<input type="text"/>	()
----------------------	----------------------	----------------------	---	----------------------	---	---

Ответ:

Пин принёс 10 шариков, а Копатыч
надул ещё 5 шариков. Сколько шариков
всего?

<input type="text"/>	-	<input type="text"/>	}	<input type="text"/>
<input type="text"/>	-	<input type="text"/>		

<input type="text"/>	<input type="text"/>	<input type="text"/>	=	<input type="text"/>	(<input type="text"/>)
----------------------	----------------------	----------------------	---	----------------------	---	----------------------	---



Ответ:

На шахматной доске стояли **4 чёрные** фигуры и **5 белых**. Сколько всего фигур стояло на шахматной доске?

<input type="text"/>	-	<input type="text"/>	}	<input type="text"/>
<input type="text"/>	-	<input type="text"/>		

<input type="text"/>	<input type="text"/>	=	<input type="text"/>	()
----------------------	----------------------	---	----------------------	---	---



Ответ:

На клумбе расцвело 5 желтых тюльпанов и *столько же* красных. Сколько всего тюльпанов на клумбе?

<input type="text"/>	-	<input type="text"/>	}	<input type="text"/>
<input type="text"/>	-	<input type="text"/>		



<input type="text"/>	<input type="text"/>	<input type="text"/>	=	<input type="text"/>	(<input type="text"/>)
----------------------	----------------------	----------------------	---	----------------------	---	----------------------	---

Ответ:

На клумбе расцвело **5 желтых**
тюльпанов и *столько же* **красных**.
Сколько **всего** тюльпанов на клумбе?

<input type="text"/>	-	<input type="text"/>	}	<input type="text"/>
<input type="text"/>	-	<input type="text"/>		

<input type="text"/>	<input type="text"/>	<input type="text"/>	=	<input type="text"/>	(<input type="text"/>)
----------------------	----------------------	----------------------	---	----------------------	---	----------------------	---

Ответ:

В корзинке лежат **5** кабачков и **4** морковки. Сколько всего овощей лежат в корзинке?

<input type="text"/>	-	<input type="text"/>	}	<input type="text"/>
<input type="text"/>	-	<input type="text"/>		

<input type="text"/>	<input type="text"/>	<input type="text"/>	=	<input type="text"/>	(<input type="text"/>)
----------------------	----------------------	----------------------	---	----------------------	---	----------------------	---

Ответ:

В корзинке лежат **5** кабачков и **4** морковки. Сколько **всего** овощей лежат в корзинке?

<input type="text"/>	-	<input type="text"/>	}	<input type="text"/>
<input type="text"/>	-	<input type="text"/>		

= ()

Ответ: овощей всего.

В корзинке лежат **5** кабачков и **4** морковки. Сколько всего овощей лежат в корзинке?

<input type="text"/>	-	<input type="text"/>	<input type="text"/>
<input type="text"/>	-	<input type="text"/>	

= ()

Ответ:

У Пети есть **4** машинки. У Димы
столько же машинок, что и у Пети.
Сколько всего машинок у мальчиков?

<input type="text"/>	-	<input type="text"/>	<input type="text"/>
<input type="text"/>	-	<input type="text"/>	

<input type="text"/>	<input type="text"/>	<input type="text"/>	=	<input type="text"/>	(<input type="text"/>)
----------------------	----------------------	----------------------	---	----------------------	---	----------------------	---

Ответ:

У Пети есть **4** машинки. У Димы *столько же* машинок, что и у Пети.
Сколько всего машинок у мальчиков?

<input type="text"/>	-	<input type="text"/>	<input type="text"/>
<input type="text"/>	-	<input type="text"/>	



<input type="text"/>	<input type="text"/>	<input type="text"/>	=	<input type="text"/>	(<input type="text"/>)
----------------------	----------------------	----------------------	---	----------------------	---	----------------------	---

Ответ:

На столе было **7** книг, Петя положил еще **3** книги. Сколько книг стало на столе?

<input type="text"/>	-	<input type="text"/>
<input type="text"/>	-	<input type="text"/>
<input type="text"/>	-	<input type="text" value="?"/>

= ()



Ответ:

На столе было **7** книг, Петя положил еще **3** книги. Сколько книг стало на столе?

<input type="text"/>	-	<input type="text"/>
<input type="text"/>	-	<input type="text"/>
<input type="text"/>	-	<input type="text"/>

= ()



Ответ:

В вазе было 4 яблока, мама положила еще 3 яблока. Сколько яблок стало в вазе?

<input type="text"/>	-	<input type="text"/>
<input type="text"/>	-	<input type="text"/>
<input type="text"/>	-	<input type="text" value="?"/>



= ()

Ответ:

У Евы было **2** тетради, мама купила ей еще **3** тетради. Сколько тетрадей стало у Евы?

<input type="text"/>	-	<input type="text"/>
<input type="text"/>	-	<input type="text"/>
<input type="text"/>	-	<input style="background-color: #f4a460; border: 1px solid #f4a460; border-radius: 10px; text-align: center; font-weight: bold; font-size: 24px; width: 40px; height: 40px;" type="text" value="?"/>

= ()



Ответ:

Зина купила 8 тетрадей, 2 тетради она отдала брату. Сколько тетрадей *осталось* у Зины?

<input type="text"/>	-	<input type="text"/>
<input type="text"/>	-	<input type="text"/>
<input type="text"/>	-	<input type="text" value="?"/>



<input type="text"/>	<input type="text" value="8"/>	<input type="text"/>	=	<input type="text"/>	()
----------------------	--------------------------------	----------------------	---	----------------------	-----

Ответ:

Зина купила 8 тетрадей, 2 тетради она отдала брату. Сколько тетрадей осталось у Зины?

<input type="text"/>	-	<input type="text"/>
<input type="text"/>	-	<input type="text"/>
<input type="text"/>	-	<input type="text"/>



<input type="text"/>	<input type="text"/>	<input type="text"/>	=	<input type="text"/>	()
----------------------	----------------------	----------------------	---	----------------------	---	---

Ответ:

У Евы было 2 тетради, мама купила ей еще 3 тетради. Сколько тетрадей стало у Евы?

<input type="text"/>	-	<input type="text"/>
<input type="text"/>	-	<input type="text"/>
<input type="text"/>	-	<input type="text"/>

= ()

Ответ:



На березе сидело **6** воробьёв,
прилетело ещё **4**. Сколько воробьёв
стало на березе?

<input type="text"/>	-	<input type="text"/>
<input type="text"/>	-	<input type="text"/>
<input type="text"/>	-	<input type="text"/>

= ()



Ответ:

В коридоре *стояло* **5** стульев,
принесли ещё **3** стула. Сколько стульев
стало в коридоре?

<input type="text"/>	-	<input type="text"/>
<input type="text"/>	-	<input type="text"/>
<input type="text"/>	-	<input type="text"/>

= ()



Ответ:

В коробке лежало 6 кубиков. Марина положила ещё 4 кубика. Сколько кубиков стало в коробке?

<input type="text"/>	-	<input type="text"/>
<input type="text"/>	-	<input type="text"/>
<input type="text"/>	-	<input type="text"/>

= ()



Ответ:

В гараже было **5** машин, **2** машины уехало из гаража. Сколько машин *осталось* в гараже?

<input type="text"/>	-	<input type="text"/>
<input type="text"/>	-	<input type="text"/>
Ост.	-	<input type="text" value="?"/>



= ()

Ответ:

В гараже было 5 машин, 2 машины уехали из гаража. Сколько машин осталось в гараже?

<input type="text"/>	-	<input type="text"/>
<input type="text"/>	-	<input type="text"/>
Ост.	-	<input style="background-color: #f4a460;" type="text" value="?"/>



= ()

Ответ:

У Пети **было 8** конфет, **1** конфету
Петя **отдал** другу. Сколько конфет
осталось у Пети?

<input type="text"/>	-	<input type="text"/>
<input type="text"/>	-	<input type="text"/>
<input type="text"/>	-	<input type="text" value="?"/>

= ()

Ответ:



На столе было **7** книг, **4** книги убрали в шкаф. Сколько книг **осталось** на столе?

<input type="text"/>	-	<input type="text"/>
<input type="text"/>	-	<input type="text"/>
<input type="text"/>	-	<input type="text"/>



<input type="text"/>	<input type="text"/>	<input type="text"/>	=	<input type="text"/>	()
----------------------	----------------------	----------------------	---	----------------------	---	---

Ответ:

В вазе было **7** груш, за обедом съели **3** груши. Сколько груш осталось в вазе?

<input type="text"/>	-	<input type="text"/>
<input type="text"/>	-	<input type="text"/>
<input type="text"/>	-	<input type="text"/>

= ()



Ответ:

У Димы было **7** тетрадей, он отдал сестре **2** тетради. Сколько тетрадей *осталось* у Димы?

<input type="text"/>	-	<input type="text"/>
<input type="text"/>	-	<input type="text"/>
<input type="text"/>	-	<input type="text"/>

= ()



Ответ:

У Димы было 7 тетрадей, он отдал сестре 2 тетради. Сколько тетрадей *осталось* у Димы?

<input type="text"/>	-	<input type="text"/>
<input type="text"/>	-	<input type="text"/>
<input type="text"/>	-	<input type="text"/>

= ()

Ответ:



На столе было **7** книг, **4** книги убрали в шкаф. Сколько книг **осталось** на столе?

<input type="text"/>	-	<input type="text"/>
<input type="text"/>	-	<input type="text"/>
<input type="text"/>	-	<input type="text"/>

= ()




Ответ:

Бабушка купила 4 м широкой тесьмы,
а узкой на 3 м больше. Сколько метров
узкой тесьмы купила бабушка?

$$\boxed{} - \boxed{} \quad \leftarrow$$
$$\boxed{} - \text{?, на } \boxed{} \text{ б.}$$




$$\boxed{} \square \boxed{} = \boxed{} ()$$



Ответ:

Ваня решил **2** задачи, Петя на **4** задачи **больше**. Сколько задач решил Петя?

- 

- **?, на б.**

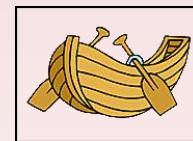
= ()

Ответ:

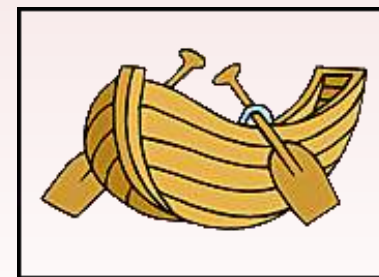
Утром ушли в море **7** больших лодок, а
маленьких **на 3** больше. **Сколько**
маленьких лодок ушло в море?

-

- **?, на б.**




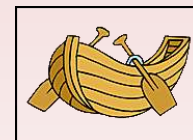
= ()



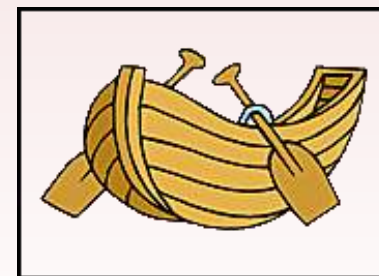
Ответ:

Утром ушли в море **7 больших** лодок, а **маленьких** на **3 меньше**. Сколько **маленьких** лодок ушло в море?

$$\boxed{} - \boxed{}$$
$$\boxed{} - \text{?, на } \boxed{} \text{ .}$$





$$\boxed{} \square \boxed{} = \boxed{} ()$$



Ответ:


Маше 4 года, Петя на 5 лет *старше*.
Сколько лет Пете?

$$\boxed{} - \boxed{}$$
$$\boxed{} - \text{?, на } \boxed{} \text{ б.}$$


$$\boxed{} \square \boxed{} = \boxed{} ()$$

Ответ:

У Вани **5** шариков, у Кати **на 1** шарик больше. Сколько шариков у Кати?


$$\begin{array}{r} \boxed{} - \boxed{} \\ \boxed{} - \text{?, на } \boxed{} \text{ б.} \end{array}$$




$$\boxed{} \square \boxed{} = \boxed{} \quad (\quad)$$

Ответ:

У Маши **7** книг, у Пети на **3** книги больше. Сколько книг у Пети?


<input type="text"/>	-	<input type="text"/>	
<input type="text"/>	-	?, <input type="text"/>	

$$\square \square \square = \square \quad (\quad)$$



Ответ:

У Маши 7 книг, у Пети на 3 книги больше. Сколько книг у Пети?

- 

- ?,

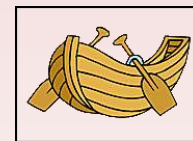
= ()



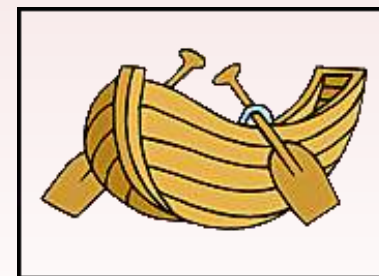
Ответ:

Утром ушли в море **7** больших лодок, а **маленьких** на **3** меньше. **Сколько** **маленьких** лодок ушло в море?

$$\boxed{} - \boxed{} = \boxed{}, \text{ на } \boxed{} \text{ м.}$$



$$\boxed{} \square \boxed{} = \boxed{} ()$$



Ответ:

Бабушка купила 4 м широкой тесьмы,
а узкой на 3 м меньше. Сколько
метров узкой тесьмы купила бабушка?

$$\boxed{} - \boxed{} \quad \leftarrow$$
$$\boxed{} - \text{?, на } \boxed{} \text{ м.}$$




$$\boxed{} \square \boxed{} = \boxed{} ()$$



Ответ:

Умка поймал 8 рыбок, а мама на 7 больше. Сколько рыбок поймала мама?

- 


- ?, на .

= ()



Ответ:

Илья живет на 9 этаже, Маша на 4 этажа ниже. На каком этаже живет Маша?


- 

- ?, на м.

= ()

Ответ:

Маше 7 лет, Петя на 5 лет младше.
Сколько лет Пете?


- 

- ?, на м.

= ()

Ответ:


Ваня решил **7** задач, *Петя* на **4** задачи **меньше**. Сколько задач решил Петя?

$$\begin{array}{r} \boxed{} - \boxed{} \\ \boxed{} - \text{?, на } \boxed{} \text{ м.} \end{array}$$


$$\boxed{} \square \boxed{} = \boxed{} \quad (\quad)$$

Ответ:


Тетрадь стоит **10** рублей, ластик на **2** рубля *дешевле*. Сколько рублей стоит ластик?

$$\begin{array}{r} \boxed{} - \boxed{} \\ \boxed{} - \text{?, на } \boxed{} \text{ м.} \end{array}$$


$$\boxed{} \square \boxed{} = \boxed{} \quad (\quad)$$

Ответ:

У Вани **5** шариков, у Кати **на 1** шарик **меньше**. Сколько шариков у Кати?

- 


- **?, на м.**



= ()

Ответ:

У Вани **5** шариков, у Кати **на 1 шарик меньше**. Сколько шариков у Кати?

$$\begin{array}{r} \boxed{} - \boxed{} \\ \boxed{} - \boxed{?, } \end{array}$$




$$\boxed{} \square \boxed{} = \boxed{} ()$$

Ответ:

Герда полила 7 цветков, а Кай – на 4 меньше. Сколько цветов полил Кай?

$$\boxed{} - \boxed{}$$


$$\boxed{} - \text{?, на } \boxed{} .$$

$$\boxed{} \square \boxed{} = \boxed{} ()$$



Ответ:

Света нарисовала **8** матрёшек, а Галя – на **3** матрёшки *меньше*. Сколько матрёшек у Гали?

- 

- **?**,

= ()



Ответ:


У Вани **6** значков, у Кати на **2** значка меньше. Сколько значков у Кати?

-
 -

$$\square \square - \square = \square \quad (\quad)$$

Ответ:

У Маши **7** книг, у Пети на **3** книги меньше. Сколько книг у Пети?


$$\begin{array}{r} \boxed{} - \boxed{} \\ \boxed{} - \boxed{?, } \end{array}$$


$$\boxed{} \square \boxed{} = \boxed{} \quad (\quad)$$



Ответ:

Илья живет на **9** этаже, Маша на **4** этажа ниже. На каком этаже живет Маша?

$$\begin{array}{r} \boxed{} - \boxed{} \\ \boxed{} - \boxed{?, } \end{array}$$


$$\boxed{} \square \boxed{} = \boxed{} \quad (\quad)$$

Ответ:


Илья живет на **3** этаже, Маша на **2** этажа **выше**. На каком этаже живет Маша?

-
 -

= ()

Ответ:

Илья живет на **9** этаже, Маша на **4** этажа ниже. На каком этаже живет Маша?


- 

- **?,**

= ()

Ответ:

Карандаш стоит **5** рублей. А ручка
стоит **7** рублей. **На** сколько рублей
карандаш дешевле, чем ручка?

<input type="text"/>	-	<input type="text"/>		на	<input data-bbox="1149 664 1333 813" type="text" value="?"/>
<input type="text"/>	-	<input type="text"/>			

$$\square \square \square = \square \quad (\quad)$$

Ответ : на


Карандаш стоит 5 рублей. А *ручка* стоит 7 рублей. **На** сколько рублей карандаш дешевле, чем ручка?

$$\begin{array}{r} \square - \square \\ \square - \square \end{array} \text{ на } \square ?$$

$$\square \square - \square = \square \text{ (} \square \text{)}$$

Ответ : на

Папа потянулся на турнике **10** раз, а *сын* – **6** раз. **На** сколько раз больше подтянулся папа, чем сын?


<input type="text"/>	-	<input type="text"/>		на	<input data-bbox="1149 664 1333 813" type="text" value="?"/>
<input type="text"/>	-	<input type="text"/>			

$$\square \square \square = \square \quad (\quad)$$

Ответ : на

В классе **8** мальчиков и **2** девочки.


На сколько мальчиков больше, чем девочек?

<input type="text"/>	-	<input type="text"/>		на	<input data-bbox="1149 664 1333 813" type="text" value="?"/>
<input type="text"/>	-	<input type="text"/>			

$$\square \square - \square = \square \quad (\quad)$$

Ответ : на


В классе **8** мальчиков и **2** девочки.
На сколько мальчиков больше, чем девочек?

<input type="text"/>	-	<input type="text"/>		на	<input type="text"/>
<input type="text"/>	-	<input type="text"/>			

$$\square \square \square = \square \quad (\quad)$$

Ответ : на


Петя живет на **8** этаже, а Дима на **2** этаже. **На сколько** этажей выше живёт Петя?

<input type="text"/>	-	<input type="text"/>		на	<input data-bbox="1155 668 1327 815" type="text" value="?"/>
<input type="text"/>	-	<input type="text"/>			

$$\square \square \square = \square \quad (\quad)$$

Ответ : на

Петя живет на 8 этаже, а Дима на 2 этаже. На сколько этажей выше живёт Петя?

<input type="text"/>	-	<input type="text"/>		<input type="text"/>
<input type="text"/>	-	<input type="text"/>		

$$\square \square - \square = \square \quad (\quad)$$

Ответ : на

В пакете **9** яблок и **4** груши. **На** сколько больше яблок, чем груш?

$$\begin{array}{r} \square - \square \\ \square - \square \end{array} \text{ на } \square ?$$

$$\square \square = \square (\quad)$$



Ответ : на

На **первой** клумбе 6 тюльпанов, а на **второй** 10 тюльпанов. **На сколько** больше тюльпанов на второй клумбе?

$$\begin{array}{r} \square - \square \\ \square - \square \end{array} \begin{array}{c} \curvearrowright \\ \curvearrowleft \end{array} \text{ на } \square ?$$

$$\square \square = \square (\quad)$$



Ответ : на

В **первый** день туристы прошли **7** км, а во **второй** **3** км. **На** сколько больше прошли туристы в первый день, чем во второй?

$$\begin{array}{r} \square - \square \\ \square - \square \end{array} \begin{array}{c} \curvearrowright \\ \curvearrowleft \end{array} \text{ на } \square ?$$

$$\square \square - \square \square = \square \text{ (} \square \text{)}$$



Ответ : на

На столе стояло 5 чашек и 9 тарелок.
На сколько меньше на столе было чашек,
чем тарелок?

$$\begin{array}{r} \square - \square \\ \square - \square \end{array} \text{ на } \square ?$$



$$\square \square = \square (\quad)$$

Ответ : на

На столе стояло 5 чашек и 9 тарелок.

На сколько меньше на столе было чашек, чем тарелок?

-

на

-



=

(

)



Ответ : на

Львёнок знает 3 песенки, а черепаха – 9.
На сколько больше песен знает черепаха?

<input type="text"/>	-	<input type="text"/>	на	<input type="text"/>
<input type="text"/>	-	<input type="text"/>		



<input type="text"/>	<input type="text"/>	=	<input type="text"/>	()
----------------------	----------------------	---	----------------------	---	---



Ответ : на

Карандаш стоит **5** рублей. А *ручка* стоит **7** рублей. **На** сколько рублей карандаш дешевле, чем ручка?

<input type="text"/>	-	<input type="text"/>	на	<input type="text"/>
<input type="text"/>	-	<input type="text"/>		

$$\square \square - \square = \square \text{ ()}$$

Ответ : на

Папа потянулся на турнике 10 раз, а *сын* – 6 раз. На сколько раз больше подтянулся папа, чем сын?

<input type="text"/>	-	<input type="text"/>	на	<input style="background-color: #f4a460; border-radius: 10px; padding: 5px 15px; font-weight: bold; font-size: 1.2em; color: black;" type="text" value="?"/>
<input type="text"/>	-	<input type="text"/>		

$$\square \square \square = \square \quad (\quad)$$

Ответ : на

В гараже было **8** машин. Из них **3** *белые*, а остальные *красные*. Сколько красных машин было в гараже?

$$\begin{array}{r} \boxed{} - \boxed{} \\ \boxed{} - \boxed{?} \end{array} \left. \vphantom{\begin{array}{r} \boxed{} \\ \boxed{} \end{array}} \right\} \boxed{}$$



$$\boxed{} \square \boxed{} = \boxed{} ()$$



Ответ:

На столе лежало **8** яблок. Из них **4** *красные*, а остальные *зелёные*. Сколько зелёных яблок лежало на столе?

$$\begin{array}{r} \boxed{} - \boxed{} \\ \boxed{} - \boxed{?} \end{array} \left. \vphantom{\begin{array}{r} \boxed{} \\ \boxed{} \end{array}} \right\} \boxed{}$$

$$\boxed{} \square \boxed{} = \boxed{} ()$$



Ответ:

На столе лежало 8 яблок. Из них 4 *красные*, а остальные *зелёные*. Сколько зелёных яблок лежало на столе?


$$\begin{array}{r} \boxed{} - \boxed{} \\ \boxed{} - \boxed{} \end{array} \left. \vphantom{\begin{array}{r} \boxed{} \\ \boxed{} \end{array}} \right\} \boxed{}$$

$$\boxed{} \square \boxed{} = \boxed{} ()$$



Ответ:

На столе было **9** тетрадей. Из них **4** в *линейку*, а остальные *в клетку*. Сколько тетрадей в клетку было на столе?



$$\square - \square = \square \quad (\quad)$$

Ответ:

На столе было 9 тетрадей. Из них 4 в линейку, а остальные в клетку. Сколько тетрадей в клетку было на столе?

$$\begin{array}{r} \square - \square = \square \\ \square - \square = \square \end{array}$$

$$\square - \square = \square \quad (\quad)$$

Ответ:



На складе стояло **7** мешков зерна. Из них **3** мешка с гречкой, а остальные мешки с **ячменём**. Сколько мешков с ячменём стояло на складе?

<input type="text"/>	-	<input type="text"/>	}	<input type="text"/>
<input type="text"/>	-	<input type="text" value="?"/>		



<input type="text"/>	<input type="text" value=""/>	<input type="text"/>	=	<input type="text"/>	(<input type="text"/>)
----------------------	-------------------------------	----------------------	---	----------------------	---	----------------------	---



Ответ:

На складе **стояло 7** мешков зерна. Из них 3 мешка **с гречкой**, а остальные мешки с **ячменём**. Сколько мешков с ячменём стояло на складе?

$$\begin{array}{r} \boxed{} - \boxed{} \\ \boxed{} - \boxed{} \end{array} \quad \boxed{}$$



$$\boxed{} \square \boxed{} = \boxed{} ()$$



Ответ:

В аквариуме **10 рыбок**. Из них **5 меченосцев**,
а остальные **гуппи**. Сколько гуппи в
аквариуме?

$$\begin{array}{r} \boxed{} - \boxed{} \\ \boxed{} - \boxed{?} \end{array} \left. \vphantom{\begin{array}{r} \boxed{} \\ \boxed{} \end{array}} \right\} \boxed{}$$



$$\boxed{} \square \boxed{} = \boxed{} ()$$



Ответ:

В аквариуме **10 рыбок**. Из них **5 меченосцев**,
а остальные **гуппи**. Сколько гуппи в
аквариуме?

$$\begin{array}{r} \boxed{} - \boxed{} \\ \boxed{} - \boxed{} \end{array} \quad \boxed{}$$



$$\boxed{} \square \boxed{} = \boxed{} ()$$



Ответ:

У кошки было **5** котят. Из них **3**
чёрные, а остальные *рыжие*. Сколько
рыжих котят было у кошки?

- =
 - =

= ()



Ответ:

В гараже было 8 машин. Из них 3
белые, а остальные красные. Сколько
красных машин было в гараже?

$$\begin{array}{r} \boxed{} - \boxed{} \\ \boxed{} - \boxed{} \end{array} \quad \boxed{}$$


$$\boxed{} \square \boxed{} = \boxed{} ()$$



Ответ:

На столе стояло **5** белых чашек, **их** на **3** меньше, чем **красных**. Сколько *красных* чашек стояло на столе?

-

что на

м.

-



=

()



Ответ:

В корзине **5** *яблок*, **это** на **4** меньше, чем *груш*. Сколько груш в корзине?

-

это на

м.

-



=

()



Ответ:

На полке стояло **7** книг, **это** на **2** меньше, чем журналов. Сколько журналов на полке?

-

что на

м.

-

?



=

()

Ответ:

На столе стояло **8** чашек, их на **3** больше, чем **стаканов**. Сколько чашек стояло на столе?

-

что на

б.

-

?



=

(

)

Ответ:

В классе **8** мальчиков, их на **6** больше, чем девочек. Сколько мальчиков в классе?

-

что на

б.

-

?



=

()

Ответ:

На столе стояло **5** белых чашек, их на **3** меньше, чем красных. Сколько *красных* чашек стояло на столе?



$$\square \square = \square \quad (\quad)$$

Ответ:

На столе стояло 8 чашек, их на 3 больше, чем стаканов. Сколько чашек стояло на столе?



$$\square \square = \square \quad (\quad)$$

Ответ:

В корзине **5 яблок**, **это** на **4** меньше, чем *груш*. Сколько груш в корзине?



$$\square \square = \square \quad (\quad)$$



Ответ: